

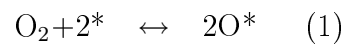
Επιστήμη επιφανειών-νανοϋλικών

Διαγώνισμα 9


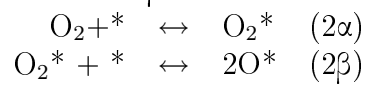
30/4/2010

Όνομα και ΑΜ:

Βρείτε πώς εξαρτάται το ποσοστό επικάλυψης (θ) από την μερική πίεση (p) αερίου οξυγόνου για τις παρακάτω δυο περιπτώσεις:



ή



Ποια είναι η συνθήκη ώστε οι δυο τρόποι να δίνουν ίδιο αποτέλεσμα;